

Bijlage HAVO

2013

tijdvak 2

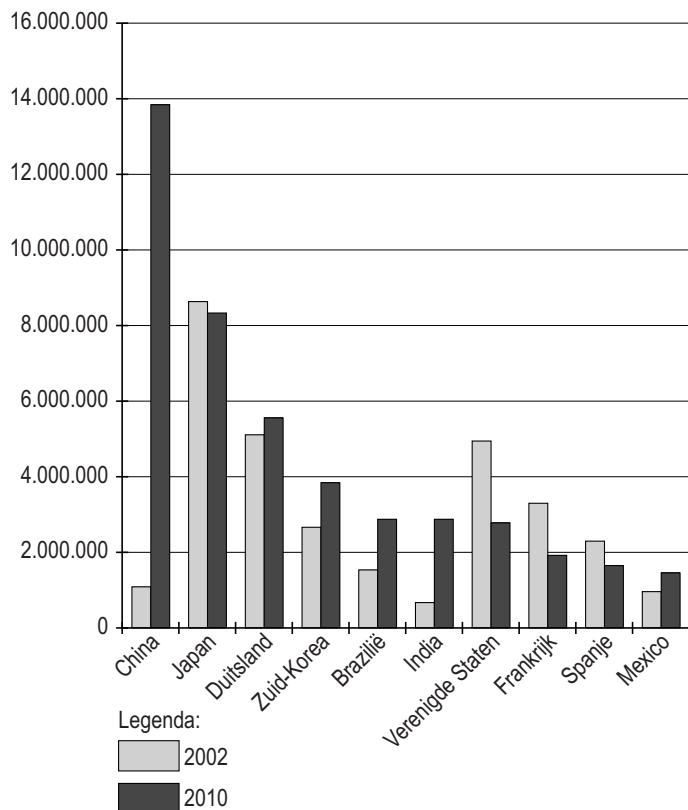
aardrijkskunde

Bronnenboekje

Opgave 1 – Globalisering in de auto-industrie

bron 1

De top tien van landen waar in 2010 de meeste personenauto's werden geproduceerd (ter vergelijking is het aantal personenauto's weergegeven dat diezelfde landen in 2002 produceerden)





vrij naar: <http://www.nationmaster.com>

Opgave 2 – Indiase mode

bron 1

Mode in Mumbai en Londen



*vrij naar (van links naar rechts): <http://indianshaadi.org>,
www.designersalwarkameez.com en www.diwansaheb.com*

bron 2

De Indiase en Britse mode beïnvloeden elkaar. In India worden steeds meer westerse ontwerpen en materialen gedragen en in Groot-Brittannië verschijnen modellen en stoffen die duidelijk op India geïnspireerd zijn. De grote Indiase modehuizen zijn gevestigd in Mumbai. In die stad bevinden zich ook de grote 'shopping malls' waar onder andere Indiërs die in Groot-Brittannië wonen hun huwelijkskleding komen uitzoeken. De kleding in Mumbai is goedkoper dan in Groot-Brittannië. Dat geldt met name voor de fijnbewerkte stoffen voor trouwjurken en feestkleding. Ook vrouwen uit Londen met een Indiase achtergrond kopen graag kleding in India: "We wisten nooit wat in de mode was in India en plotseling liepen we vijf jaar achter. En dan denk je: o nee, ik ben uit de mode."

vrij naar: Peter Jackson, Nicola Thoma, Claire Dwyer, Consuming transnational fashion in London and Mumbai, in: Geoforum

Opgave 3 – African Rift

bron 1

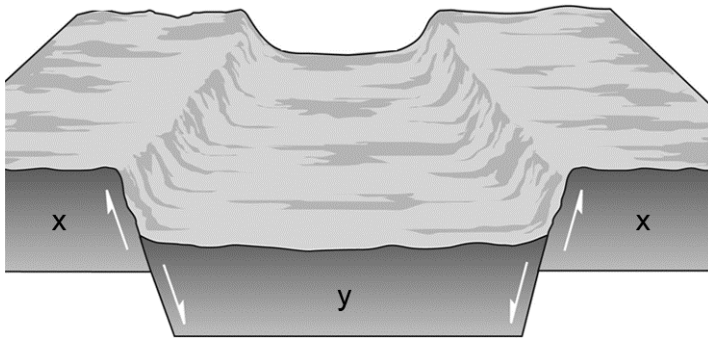
De Grote Riftvallei in Oost-Afrika

In het oosten van Afrika bevindt zich een langgerekt stelsel van breuken, waartussen delen van de aardkorst zijn weggezakt. Deze weggezakte delen worden samen de Grote Riftvallei genoemd. Deze Grote Riftvallei is onderdeel van een groter systeem dat van Mozambique doorloopt naar Syrië in het Midden-Oosten. De Grote Riftvallei is op sommige plaatsen duizenden meters diep. Op de kaart van Afrika is de Grote Riftvallei herkenbaar aan een reeks van meren die zich in de weggezakte delen hebben gevormd. De twee grootste van deze meren, het Tanganjikameer en het Malawimeer, behoren tot de diepste meren ter wereld.

bron: Cito

bron 2

Schematische doorsnede van de Grote Riftvallei in Oost-Afrika



vrij naar: <http://geography.sierra.cc.ca.us>

Opgave 4 – Antelope Canyon en de Colorado

bron 1

De Antelope Canyon



*vrij naar: <http://www.ontdek-amerika.nl> en
<http://videoprocessing.ucsd.edu>*

Opgave 5 – Waterproblemen in Semarang

bron 1

Wateroverlast in Semarang

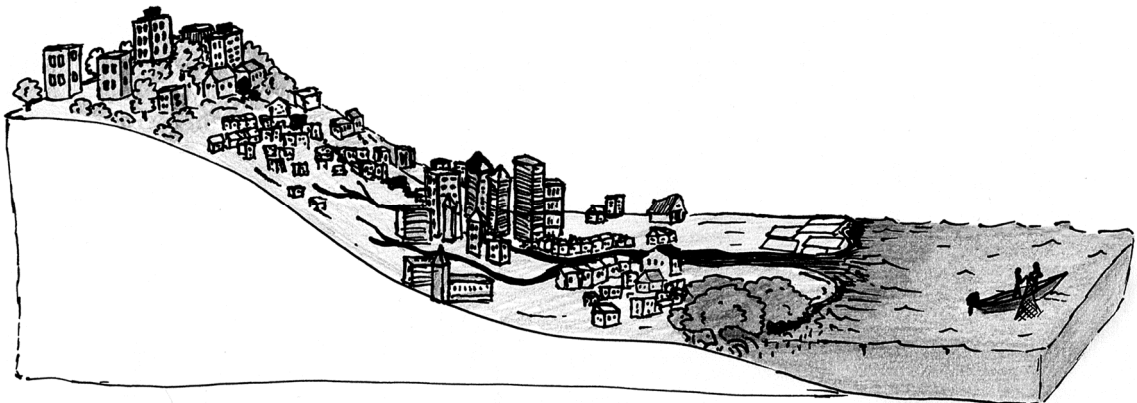
Semarang is een stad met 1,5 miljoen inwoners, gelegen aan de kust van de Javazee in de provincie Midden-Java. De lagergelegen delen van de stad hebben te lijden onder ernstige overstromingen, met name in de periode van december tot en met februari. Het bebouwde gebied van Groot-Semarang is in de loop der jaren steeds verder uitgebreid. Door ruimtegebrek langs de kust zijn nieuwe woonwijken op de berghellingen rondom de stad gebouwd.

Vanwege de toename van de bevolking en de groeiende welvaart van de middenklasse zijn daar steeds meer woonwijken en bedrijventerreinen gebouwd. Het oude stadscentrum en de wijken daaromheen liggen nauwelijks één meter boven het zeeniveau. Dit wordt nog minder doordat er grondwater wordt opgepompt in de stad. Het grootste deel van de bewoners van de wijken in de benedenstad is arm. Het zijn vaak de armste bewoners die het slachtoffer zijn van de wateroverlast.

vrij naar: Benny Setianto en Ton van Naerssen: Waterproblemen in Semarang, Geografie, maart 2009

bron 2

Overzicht van Semarang

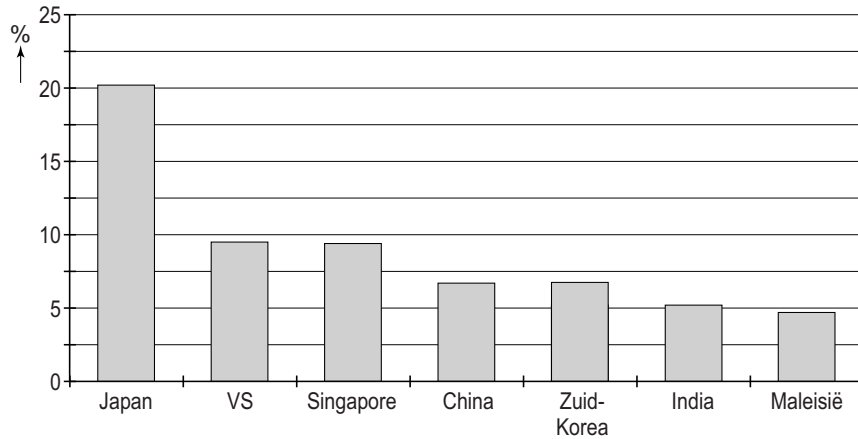


vrij naar: <http://www.ferrybox.eu>

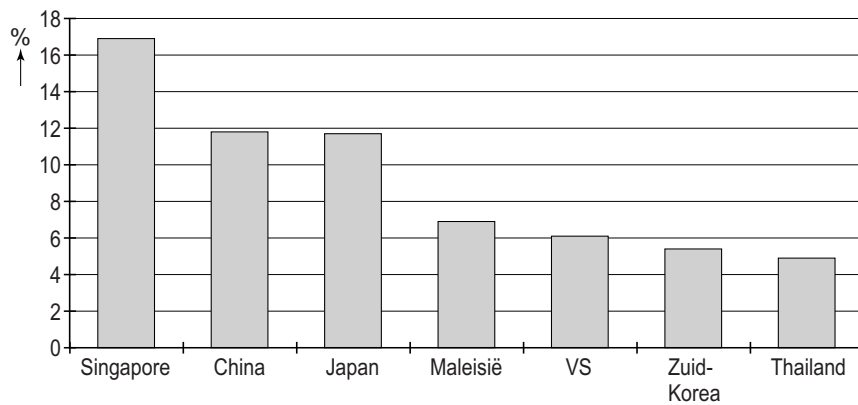
Opgave 6 – Handel in Indonesië

bron 1

Belangrijkste exportpartners van Indonesië in 2008 in percentage van de totale Indonesische export



Belangrijkste importpartners van Indonesië in 2008 in percentage van de totale Indonesische import

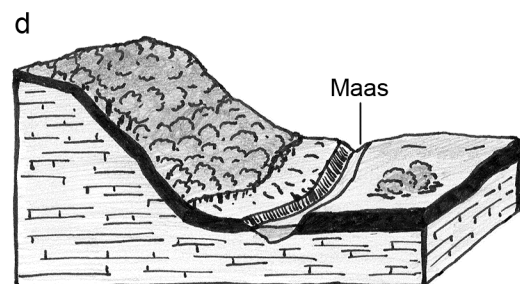
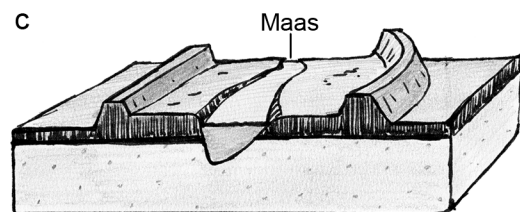

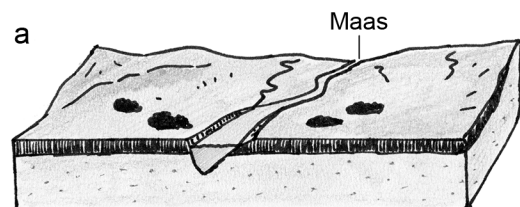


vrij naar: <http://www.economywatch.com>

Opgave 7 – De Maas in stukjes

bron 1

Blokdiagrammen van vier locaties langs de Maas



vrij naar: *De Grote Bosatlas*, 53e druk en <http://www.natuur dichtbij.nl>

Opgave 8 – De wijk Heechterp-Schieringen

bron 1

De wijk Heechterp-Schieringen

Heechterp-Schieringen is een wijk van ongeveer 4.000 inwoners in het oostelijk deel van Leeuwarden. Bijna de helft van de inwoners is tussen de 18 en 35 jaar oud en bijna 80 procent van hen is alleenstaand. De wijk bestaat voornamelijk uit sociale huurwoningen (bron 2).

In de jaren tachtig was deze wijk een achterstandswijk met veel criminaliteit, drugsoverlast en sociale problemen.

In de jaren negentig is een aantal flats gesloopt en op die plaats zijn koopwoningen gebouwd, waardoor dat deel van de wijk een totaal ander uiterlijk kreeg. Na die nieuwbouw waren de problemen in de wijk nog niet voorbij.

Het gemiddelde inkomen van Heechterp-Schieringen behoort tot de laagste inkomens van Nederland. Veel zogeheten multiprobleemgezinnen kampen met schulden en de sociale cohesie is er vrij laag.

Onder meer een frontlijnsteam, buurtconciërges, een Cruyff-Court (voetbalveldje), steegverlichting en tal van buurtactiviteiten brengen stap voor stap verbetering.

Het frontlijnsteam benadert mensen actief en werkt aan problemen 'achter de voordeur' zoals een laag opleidingsniveau, werkloosheid, verslaving, gezinsproblemen en schooluitval. De aanpak is zo succesvol dat deze inmiddels ook in andere wijken wordt toegepast.

vrij naar: www.heechterpschieringen.nl

bron 2

Woningen in de wijk Heechterp-Schieringen



vrij naar: <http://www.wikipedia.org>